

# ТИТУЛЬНЫЙ ЛИСТ

Всероссийская олимпиада школьников

ШКОЛЬНЫЙ этап

Заполняется ПЕЧАТНЫМИ БУКВАМИ чернилами черного или синего цвета по образцам:

А	Б	В	Г	Д	Е	Ж	З	И	К	Л	М	Н	О	П	Р	С	Т	У	Ф	Х	Ц	Ч	Ш	Щ	Ъ	Ы	Ь	Э	Ю	Я	@	8	9	,
А	В	С	Д	Е	Г	Ж	З	И	К	Л	М	Н	О	П	Р	Q	R	S	T	U	V	W	X	Y	Z	1	2	3	4	5	6	7	0	.

ПРЕДМЕТ

ГЕОГРАФИЯ

КЛАСС

11

ДАТА

20 . 09 . 2024

ШИФР УЧАСТНИКА

Г 5 5

ФАМИЛИЯ

ЕРБЯГИНА

ИМЯ

ТАТЬЯНА

ОТЧЕСТВО

ВАСИЛЬЕВНА

Документ, удостоверяющий личность

свидетельство о рождении

паспорт

Гражданство

Российская Федерация

серия

номер



Иное

Дата рождения

22 . 01 . 2007

Домашний телефон участника

+ 7

Мобильный телефон участника

+ 7

Электронный адрес участника

Муниципалитет

Г. НАЗАРОВО

Сокращенное наименование образовательной организации (школы)

МАОУ СОЦЛ 2 им. Г.Я. Борисенко

Сведения о педагогах-наставниках

1. Фамилия

Юрченко

Имя

Лариса

Отчество

Михайловна

Сокращенное наименование образовательной организации (школы)

2. Фамилия

Имя

Отчество


Сокращенное наименование образовательной организации (школы)

Личная подпись участника

Все поля обязательны к заполнению!



**БЛАНК ОТВЕТОВ**  
**ВСЕРОССИЙСКОЙ ОЛИМПИАДЫ ШКОЛЬНИКОВ ПО ГЕОГРАФИИ**  
 школьный этап 2024-2025 учебный год,  
 9 - 11 класс

Шифр Г 55

**Тестовый тур (Максимум 20 баллов)**

1	2	3	4	5	6	7	8	9	10	11	12	13	14	15	16	17	18	19	20
Б	В	В	Б	А	В	В	В	А	Б	Г	Б	В	А	Г	В	А	Б	В	А
+	+	+	+	+	+	+	+	-	+	+	+	+	-	-	+	+	+	+	+
																			170

**Теоретический тур**

**Задание 1** (максимальное количество баллов - 7)

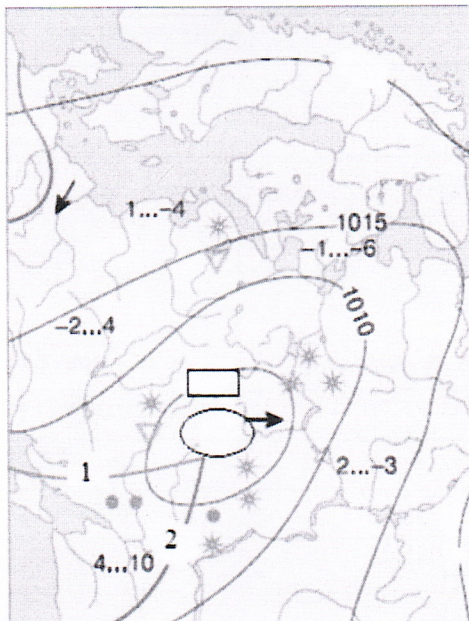


Рис.1

Запишите, как называется карта, часть которой представлена на рисунке 1.

Изогипсическая, метеорологическая 10

Запишите, какая цифра пропущена на изолинии в прямоугольной области?

1005 10

Как называются эти изолинии?

Изобары 10

Какая единица измерения используется на изолиниях?

Миллибары или гектопаскали 10

Запишите, что должно быть обозначено в центре в обозначенной овалом области?

А или минимум 10

Что обозначено под цифрой 1 (синяя линия)

Холодный фронт 10

и под цифрой 2 (красная линия)

Теплый фронт 10

60

**Задание 2.** (Максимальное количество баллов - 16)

Установите соответствие. В свободные ячейки впишите верный ответ.

А) Горы - складчатость

Название гор	Название складчатости
1. Кавказские	а) байкальская
2. Восточные Саяны	б) альпийская (кайнозойская)
3. Чукотское нагорье	в) герцинская
4. Уральские горы	г) мезозойская

40

1	2	3
б	а	г

+ + +



**ВСЕРОССИЙСКАЯ ОЛИМПИАДА ШКОЛЬНИКОВ ПО ГЕОГРАФИИ  
ШКОЛЬНЫЙ ЭТАП. 9 - 11 КЛАСС**

**Б) Краткая характеристика - природная зона**

Краткая характеристика	Природная зона
1) пастбища для оленей	а) тайга
2) этой зоны нет в Сибири	б) смешанные и широколиственные леса
3) самая большая по площади в России	в) <i>степь</i>
4) значительная часть зоны распахана	г) тундра

4	2	3
а	б	в

45

**В) Климатический пояс - природная зона**

Климатический пояс	Природная зона
1) <i>умеренный</i>	а) сельва
2) Субэкваториальный	б) саванны
3) Субтропический	в) тайга
4) Экваториальный	г) жестколистные леса и кустарники

4	2	3
а	б	в

45

**Г) Город - субъект РФ**

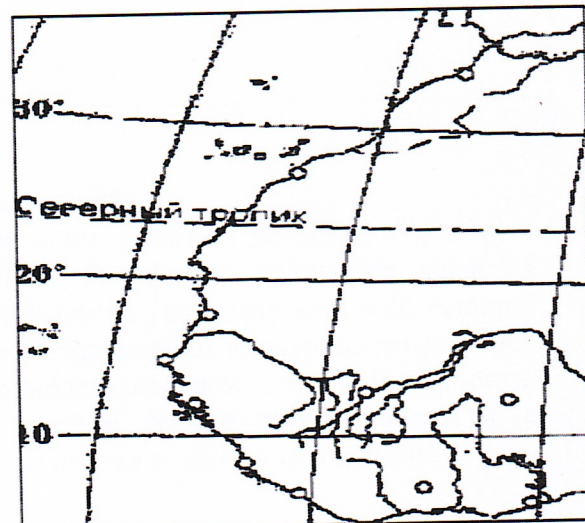
Город	Субъект РФ
1) Улан-Уде	а) Алтайский край
2) Петрозаводск	б) Республика Хакасия
3) Абакан	в) Республика Карелия
4) Барнаул	г)

05

4	2	3
а	б	в

**Задание 3. (Максимальное количество баллов - 12)**

Определите материк, участок которого изображен на фрагменте контурной карты. Многие путешественники огибали побережье по океану. Выберите имена путешественников и первооткрывателей, пересекавших Северный тропик в этом районе в период Великих географических открытий (XV-середина XVII вв.) и укажите цель путешествия: Афанасий Никитин, Абель Тасман, Бартоломеу Диаш, Генри Гудзон, Джон Кабот, Васко да Гама, Виллем Баренц, Семен Дежнев, Фернан Магеллан, Френсис Дрейк, Христофор Колумб. Ответы запишите в таблице





**ВСЕРОССИЙСКАЯ ОЛИМПИАДА ШКОЛЬНИКОВ ПО ГЕОГРАФИИ  
ШКОЛЬНЫЙ ЭТАП. 9 - 11 КЛАСС**

Вопрос	Ответ
Определите материк, участок которого изображен на фрагменте контурной карты. Многие путешественники огибали побережье по океану. Выберите имена путешественников и первооткрывателей, пересекавших Северный тропик в этом районе в период Великих географических открытий (XV-середина XVII вв.) и укажите цель путешествия: Афанасий Никитин, Абель Тасман, Бартоломеу Диаш, Генри Гудзон, Джон Кабот, Васко да Гама, Виллем Баренц, Семен Дежнев, Фернан Магеллан, Френсис Дрейк, Христофор Колумб.	Материк -

**Задание 4** (максимальное количество баллов – 12)

Укажите лишнее слово в каждом логическом ряду. Объясните, почему Вы так считаете. Продолжите логический ряд. Запишите ответы в таблицу.

- 1) Нижний Тагил, Новокузнецк, Магнитогорск, Красноярск
- 2) Швейная, крупяная, сахарная, чайная
- 3) Братская, Билибинская, Усть-Илимская, Красноярская.
- 4) Куйбышевское, Нижнекамское, Алабуга, Заинское.

Номер ряда	Ошибка в логическом ряду	Обоснование исключения	Ваш пример для продолжения логического ряда
1			
2			
3			
4			

**Задание 5.** (3 балла)

Прочтите текст. Назовите страну, о которой идет речь.

Эта северная страна имеет выход к трем океанам и самую длинную береговую линию в мире. В стране 2 государственных языка. По форме правления является конституционной монархией. В стране хорошо развита сфера услуг, отрасли добывающей и обрабатывающей промышленности. Около 60% электроэнергии производится на ГЭС. Она является поставщиком продукции горнодобывающей промышленности, машиностроения, металлургии, топливной, химической и лесной промышленности, а также сельского хозяйства. Одним из символов страны долгое время является бобр.

Ответ: Страна - Канада 30

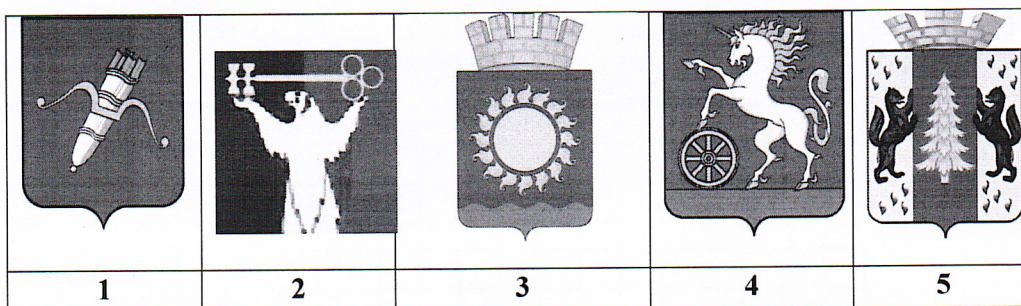


**ВСЕРОССИЙСКАЯ ОЛИМПИАДА ШКОЛЬНИКОВ ПО ГЕОГРАФИИ  
ШКОЛЬНЫЙ ЭТАП. 9 - 11 КЛАСС**

**Задание 6** (Максимальное количество баллов - 12)

Проанализируйте космический снимок городской территории Красноярского края и ее окрестностей, выберите герб города и ответьте на вопросы, заполнив таблицу:

- 1) Как называется этот город?
- 2) Под каким номером представлен герб города?
- 3) Как называется река, протекающая рядом с городом?



Вопрос	Ответы
Проанализируйте космический снимок городской территории Красноярского края и ее окрестностей, выберите герб города и ответьте на вопросы	1) Как называется этот город? <u>Назарово Ачинск + 4б</u>
	2) Под каким номером представлен герб города? <u>В 1 + 4б</u>
	3) Как называется река, протекающая рядом с городом? <u>р. Чулым + 4б</u>

*Итого: 50 баллов*