

# ТИТУЛЬНЫЙ ЛИСТ

Всероссийская олимпиада школьников

Школьный

этап

Заполняется ПЕЧАТНЫМИ БУКВАМИ чернилами черного или синего цвета по образцам:

А	Б	В	Г	Д	Е	Ж	З	И	К	Л	М	Н	О	П	Р	С	Т	У	Ф	Х	Ц	Ч	Ш	Щ	Ъ	Ы	Ь	Э	Ю	Я	@	8	9	,
A	B	C	D	E	F	G	H	I	J	K	L	M	N	O	P	Q	R	S	T	U	V	W	X	Y	Z	1	2	3	4	5	6	7	0	.

ПРЕДМЕТ

ГЕОГРАФИЯ

КЛАСС

9Б

ДАТА

20.09.2024

ШИФР УЧАСТНИКА

Г 6 9

ФАМИЛИЯ

БАРАНОВ

ИМЯ

Александр

ОТЧЕСТВО

Олегович

Документ, удостоверяющий личность

свидетельство о рождении

паспорт

Гражданство

Российская Федерация

серия

номер

Иное

Дата рождения

07.08.2009

Домашний телефон участника

+ 7

Мобильный телефон участника

+ 7

Электронный адрес участника

Муниципалитет

г. НАЗАРОВО

Сокращенное наименование образовательной организации (школы)

МАОУ «СОШ № 2 им. Г. Я. Борисенко»

Сведения о педагогах-наставниках

1. Фамилия

Юрченко

Имя

Лариса

Отчество

МИХАЙЛОВНА

Сокращенное наименование образовательной организации (школы)

2. Фамилия

Имя

Отчество

Сокращенное наименование образовательной организации (школы)

Личная подпись участника

Все поля обязательны к заполнению!



**БЛАНК ОТВЕТОВ**  
**ВСЕРОССИЙСКОЙ ОЛИМПИАДЫ ШКОЛЬНИКОВ ПО ГЕОГРАФИИ**  
 школьный этап 2024-2025 учебный год,  
 9 - 11 класс

Шифр Г69

**Тестовый тур (Максимум 20 баллов)**

1	2	3	4	5	6	7	8	9	10	11	12	13	14	15	16	17	18	19	20
Б	В	Б	Б	А	В	Б	Б	А	Б	Г	Б	А	В	Г	В	А	Б	Б,В	А
+	+	+	+	+	+	+	+	+	+	+	+	+	-	+	+	+	+	+	+
														196					

**Теоретический тур**

**Задание 1** (максимальное количество баллов - 7)

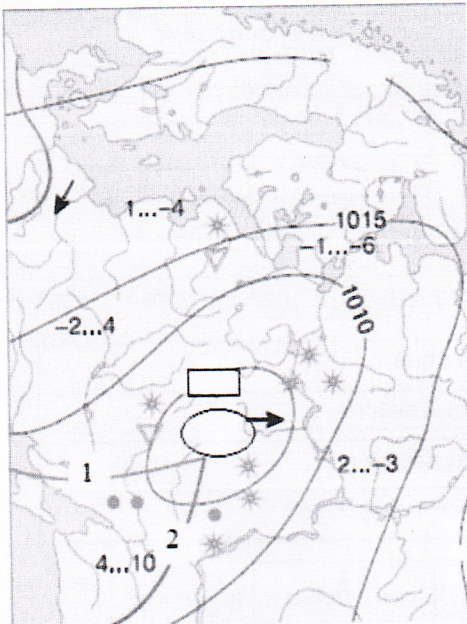


Рис.1

Запишите, как называется карта, часть которой представлена на рисунке 1.

Синоптическая 15

Запишите, какая цифра пропущена на изолинии в прямоугольной области?

1005 15

Как называются эти изолинии?

Изобары 15

Какая единица измерения используется на изолиниях?

Градус

Запишите, что должно быть обозначено в центре обозначенной овалом области?

Что обозначено под цифрой 1 (синяя линия)

холодный фронт 15

и под цифрой 2 (красная линия)

Теплый фронт 15

55

**Задание 2.** (Максимальное количество баллов - 16)

Установите соответствие. В свободные ячейки впишите верный ответ.

А) Горы - складчатость

Название гор	Название складчатости
1. Кавказские	а) байкальская
2. Восточные Саяны	б) альпийская (кайнозойская)
3. Чукотское нагорье	в) <u>Герцинская</u>
4. Уральские горы	г) мезозойская

45

1	2	3
Б	А	Г

+



**ВСЕРОССИЙСКАЯ ОЛИМПИАДА ШКОЛЬНИКОВ ПО ГЕОГРАФИИ  
ШКОЛЬНЫЙ ЭТАП. 9 - 11 КЛАСС**

**Б) Краткая характеристика - природная зона**

Краткая характеристика	Природная зона
1) пастбища для оленей	а) тайга
2) этой зоны нет в Сибири	б) смешанные и широколиственные леса
3) самая большая по площади в России	в) <i>степь</i>
4) значительная часть зоны распахана	г) тундра

1	2	3
<i>ЖГ</i>	<i>ЖБ</i>	<i>ЖКА</i>

*45*

**В) Климатический пояс - природная зона**

Климатический пояс	Природная зона
1) <i>умеренный</i>	а) сельва
2) Субэкваториальный	б) саванны
3) Субтропический	в) тайга
4) Экваториальный	г) жестколистные леса и кустарники

*45*

1	2	3
<i>А</i>	<i>Б</i>	<i>Г</i>

**Г) Город - субъект РФ**

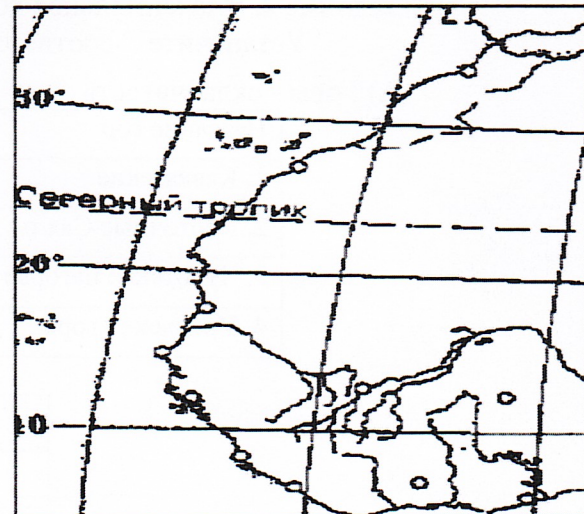
Город	Субъект РФ
1) Улан-Уде	а) Алтайский край
2) Петрозаводск	б) Республика Хакасия
3) Абакан	в) Республика Карелия
4) Барнаул	г) <i>республика Бурятия</i>

*45*

1	2	3
<i>ЖАГ</i>	<i>В</i>	<i>Б</i>

**Задание 3. (Максимальное количество баллов - 12)**

Определите материк, участок которого изображен на фрагменте контурной карты. Многие путешественники огибали побережье по океану. Выберите имена путешественников и первооткрывателей, пересекавших Северный тропик в этом районе в период Великих географических открытий (XV-середина XVII вв.) и укажите цель путешествия: Афанасий Никитин, Абель Тасман, Бартоломеу Диаш, Генри Гудзон, Джон Кабот, Васко да Гама, Виллем Баренц, Семен Дежнев, Фернан Магеллан, Френсис Дрейк, Христофор Колумб. Ответы запишите в таблице





**ВСЕРОССИЙСКАЯ ОЛИМПИАДА ШКОЛЬНИКОВ ПО ГЕОГРАФИИ  
ШКОЛЬНЫЙ ЭТАП. 9 - 11 КЛАСС**

Вопрос	Ответ
<p>Определите материк, участок которого изображен на фрагменте контурной карты. Многие путешественники огибали побережье по океану. Выберите имена путешественников и первооткрывателей, пересекавших Северный тропик в этом районе в период Великих географических открытий (XV-середина XVII вв.) и укажите цель путешествия: Афанасий Никитин, Абель Тасман, Бартоломеу Диаш, Генри Гудзон, Джон Кабот, Васко да Гама, Виллем Баренц, Семен Дежнев, Фернан Магеллан, Френсис Дрейк, Христофор Колумб.</p>	<p>Материк - <u>Африка</u> 25</p>
	<p><u>Бартоломеу Диаш, Христофор Колумб, Френсис Дрейк, Фернан Магеллан, Васко да Гама.</u> 25</p>

**Задание 4** (максимальное количество баллов – 12)

Укажите лишнее слово в каждом логическом ряду. Объясните, почему Вы так считаете. Продолжите логический ряд. Запишите ответы в таблицу.

- 1) Нижний Тагил, Новокузнецк, Магнитогорск, Красноярск
- 2) Швейная, крупяная, сахарная, чайная
- 3) Братская, Билибинская, Усть-Илимская, Красноярская.
- 4) Куйбышевское, Нижнекамское, Алабуга, Заинское.

Номер ряда	Ошибка в логическом ряду	Обоснование исключения	Ваш пример для продолжения логического ряда
1	<u>Красноярск</u>	<u>Красноярск не относится к Уралу центр Алтае-Саянских гор</u>	<u>Зелаябинск</u> 35
2	<u>ШВЕЙНАЯ</u>	<u>ШВЕЙНАЯ - ЛЕГКАЯ ПРЯЖА - ШИТЬЕ, а остальные отрасли пищи - ОБПРАЖА</u>	<u>ОВОЩНАЯ</u> 35
3	<u>Билибинская Красноярская</u>	<u>Билибинская - это АЭС а все остальные - ГЭС</u>	<u>Саяно-Шушенская</u> 35
4	<u>Алабуга</u>	<u>Алабуга - особая животноводческая зона</u>	

**Задание 5.** (3 балла)

Прочтите текст. Назовите страну, о которой идет речь.

Эта северная страна имеет выход к трем океанам и самую длинную береговую линию в мире. В стране 2 государственных языка. По форме правления является конституционной монархией. В стране хорошо развита сфера услуг, отрасли добывающей и обрабатывающей промышленности. Около 60% электроэнергии производится на ГЭС. Она является поставщиком продукции горнодобывающей промышленности, машиностроения, металлургии, топливной, химической и лесной промышленности, а также сельского хозяйства. Одним из символов страны долгое время является бобр.

Ответ: Страна - Канада 35



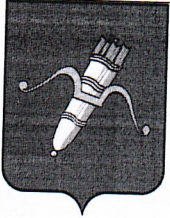




**ВСЕРОССИЙСКАЯ ОЛИМПИАДА ШКОЛЬНИКОВ ПО ГЕОГРАФИИ  
ШКОЛЬНЫЙ ЭТАП. 9 - 11 КЛАСС**

**Задание 6** (Максимальное количество баллов - 12)

Проанализируйте космический снимок городской территории Красноярского края и ее окрестностей, выберите герб города и ответьте на вопросы, заполнив таблицу:

- 1) Как называется этот город?
- 2) Под каким номером представлен герб города?
- 3) Как называется река, протекающая рядом с городом?



				
1	2	3	4	5

Вопрос	Ответы
Проанализируйте космический снимок городской территории Красноярского края и ее окрестностей, выберите герб города и ответьте на вопросы	1) Как называется этот город? <i>Ачинск</i> <span style="float: right;"><i>4.5</i></span>
	2) Под каким номером представлен герб города? <i>4</i> <span style="float: right;"><i>4.5</i></span>
	3) Как называется река, протекающая рядом с городом? <i>Чулым</i> <span style="float: right;"><i>4.5</i></span>
	<u><i>13.5</i></u>

*Итого: 68.5*